

Épreuve semestrielle de mathématiques

Date : 15 décembre 2023

Nom :	Prénom :	Groupe :
-------	----------	----------

Cours : 3MA2.DF01-02.

Mode d'impression : recto-verso.

Durée : 160 minutes.

Annexe : aucune.

Nombre de pages de l'énoncé : 4 pages.

Nombre de points de l'épreuve : 82 points.

Documents et matériel autorisés	
Mis à disposition par le collège :	Personnels à l'élève :
Feuilles quadrillées.	Calculatrice personnelle TI-30X Pro ou modèle équivalent (non graphique, non programmable) ; table CRM personnelle non annotée.

Indications et directives :

- i) Tous les calculs et les étapes de raisonnement doivent figurer sur la copie.
- ii) **2 points** seront attribués à la qualité de la rédaction et de l'écriture mathématique.

Respect des consignes, mise en évidence des résultats et respect des notations mathématiques usuelles : Nombre de points : ... /2 pts
--

Exercice 1 (7 points)

En utilisant les formules de dérivation, calculer la dérivée des fonctions suivantes.

i) $f(x) = \sin\left(\left(\frac{2x-1}{x}\right)^2\right)$

ii) $f(x) = \sqrt{4\sin(x) \cdot \cos(x)}$

Il n'est pas demandé de simplifier les résultats.

/7 points

Exercice 2 (13 points)

On considère la fonction f définie par $f(x) = x + 2 + \sqrt{x^2 + 1}$. Déterminer les équations de ses asymptotes en $+\infty$ et en $-\infty$.

/13 points

Exercice 3 (18 points)

On considère la fonction f définie par $f(x) = \frac{2x^2 - 4x}{x^3 - 2x^2 + x}$, dont on donne la première et la deuxième dérivée (que vous n'avez donc pas besoin de calculer) :

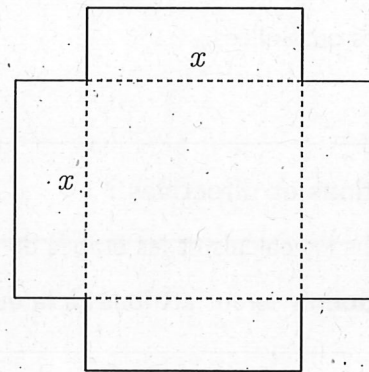
$$f'(x) = \frac{-2(x-3)}{(x-1)^3} \quad f''(x) = \frac{4(x-4)}{(x-1)^4}$$

- i) Déterminer toutes les asymptotes (équations) et/ou les "trous" (coordonnées) de f .
- ii) Étudier la croissance de f et déterminer les coordonnées $(x; y)$ des éventuels extrema.
- iii) Déterminer les coordonnées $(x; y)$ des éventuels points d'inflexion.
- iv) Représenter graphiquement la fonction f .

/18 points

Exercice 4 (11 points)

On veut construire une boîte en aluminium sans couvercle de 500 cm^3 de volume. La boîte est un parallélépipède rectangle dont la base est un carré de côté $x \text{ cm}$ et son patron est représenté ci-contre.



- i) Exprimer la surface totale de cette boîte en fonction de x .
- ii) Quelles doivent être les dimensions de cette boîte pour que cette surface soit minimale ?

Indication : Si vous n'avez pas trouvé de réponse pour (i), vous pouvez utiliser la fonction

$$S(x) = x^2 + \frac{16000}{x}$$

[qui n'est pas la réponse correcte pour (i)] pour répondre aux questions (ii) et (iii).

- iii) Si cette boîte est en aluminium et que l'aluminium coûte 100 francs par m^2 , calculer le prix de cette boîte de surface minimale.

/11 points

Exercice 5 (8 points)

Vrai ou faux? Justifier.

- i) Si $f(x) < 0$ et $f'(x) < 0$ pour tout $x \in]c; d[$, alors $f''(x) < 0$ pour tout $x \in]c; d[$.
- ii) Pour tout $b, c \in \mathbb{R}$ et $a \neq 0$ la fonction f définie par $f(x) = x^4 + ax^3 - x^2 + bx + c$ possède deux points d'inflexion.


/8 points

Exercice 6 (10 points)

Représenter graphiquement ci-dessous une fonction f qui vérifie toutes les conditions suivantes.

Précision : on demande bien une seule fonction qui vérifie toutes les conditions et non une fonction pour chaque condition.

- | | |
|---|---|
| i) L'ensemble Z_f des zéros de f est $\{-3; 1; 3\}$ | ii) $f(0) = 4$ |
| iii) $y = x - 3$ est une asymptote oblique de f à $+\infty$ | iv) $\lim_{x \rightarrow -\infty} f(x) = 1$ |
| v) f n'est pas définie en $x = -1$ et $\lim_{x \rightarrow -1} f(x) = 2$ | vi) $f'(0) = 0$ |
| vii) f est définie en $x = 4$ et $\lim_{x \rightarrow 4} f(x)$ n'existe pas | viii) $\lim_{x \rightarrow 1} f(x) \neq f(1)$ |
| ix) f est définie mais pas dérivable en $x = 6$ | x) $f'(-5) \neq 0$ et $f''(-5) = 0$ |
| xi) $f'(x)$ est strictement positive sur l'intervalle $] -6; -4[$ | xii) $\lim_{x \rightarrow 2} f(x) = +\infty$ |

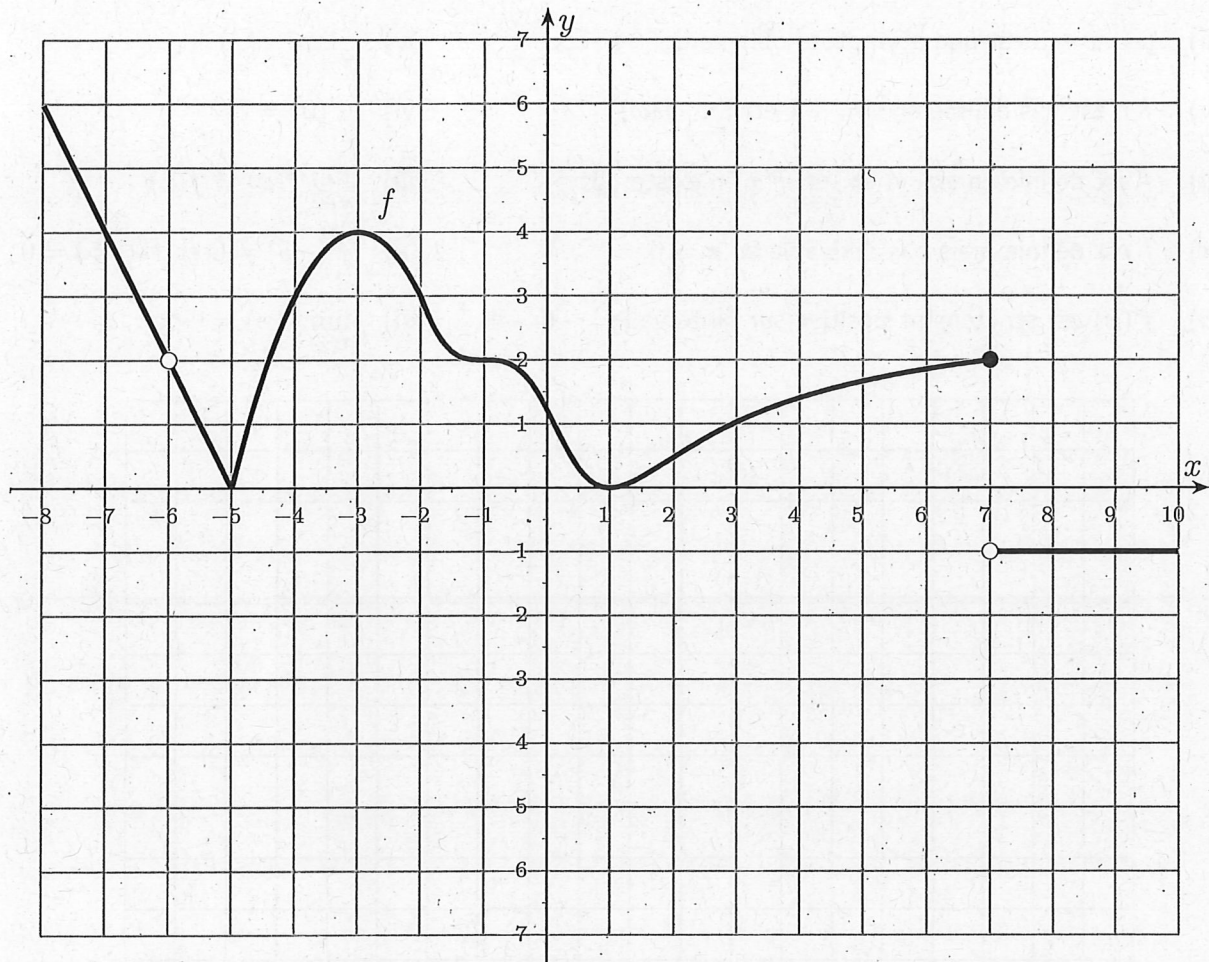


/10 points

Exercice 7 (13 points)

On donne ci-dessous une représentation graphique d'une fonction f . Représenter graphiquement dans le même repère la dérivée f' de f .

Les traits de construction qui ont servis à élaborer cette esquisse doivent être apparents.



/13 points